

Questões

1 A

2 C

3 A

4 C

5 C

6 D

7 D

8 B

9 D

10 A

11 B

12 A

13 B

14 D

15 D

16 B

17 B

18 C

19 B

20 B

21 D

22 B

23 C

24 D

25 D

26 C

27 C

28 D

29 B

30 D

31 A

32 B

33 D

34 A

35 C

36 A

37 D

38 B

39 A

40 A

41 C

42 B

43 C

44 D

45 D

46 B

47 B

48 D

49 C

50 A

Questões

1. Figuras de linguagem podem ser formas criativas, inteligentes e bastante eficazes de usar a linguagem. E assim fazemos em nosso dia a dia. Observe:

Nossa! O Brasil tem a menor carga tributária do planeta, uma maravilha!

Esta frase é:

- A Irônica.
- B Assindética.
- C Autoritária.
- D Exagerada.

2. Analise as frases abaixo:

I- As lágrimas dele eram de crocodilo!

II- Todos os dias, pela manhã, ele sobe para cima daquela casa e arruma a antena.

- A Em ambas há a figura de linguagem Metáfora.
- B Em ambas há a figura de linguagem Pleonasma.
- C Em I há a figura de linguagem Metáfora e em II há a figura de linguagem Pleonasma.
- D Em I há a figura de linguagem Pleonasma e em II há a figura de linguagem Metáfora.

3. No diálogo abaixo, cada fala corresponde a um número.

I- Por que ele adquiriu somente um ingresso!

II- Comprou dois: um para você outro para mim.

III- Mas ele saiu daqui dizendo: "Só comprarei o meu!"

IV- Pelo visto você acredita em tudo, o que ele diz.

Em relação ao diálogo, a pontuação está correta APENAS em:

- A III
- B I e II
- C II e IV
- D III e IV

4. Aponte a frase em que a pontuação **NÃO** foi corretamente utilizada:

PROCESSO SELETIVO 001/2023 - OGMO/NATAL (CONFERENTE)

- A Cabe a nós catarinenses, natos ou não, defender os interesses do Estado.
- B Muito chateado, o diretor de Recursos Humanos teve que demitir oito servidores.
- C O senador catarinense Fulano de Tal (DEM), pediu explicações ao Ministério da Saúde sobre as vacinas.
- D As homenagens, para quem não sabe, nada mais são do que falsidades em traje de gala.



5.

Internet: <<https://www.google.com>>.

O humor da tirinha decorre do(da):

- A fato de que o médico se recusou a tratar o paciente doente.
- B duplo sentido da palavra "intestino".
- C interpretação errada que o médico faz do sentido de uma das palavras empregadas pelo paciente.
- D inusitado fato de um paciente com intestino preso querer um gastroenterologista.

6.

Dentes limpinhos

As primeiras escovas de dentes surgiram na China por volta de 1498. Eram feitas de pelos de porco trançados em varinhas de bambu. Essas cerdas foram trocadas depois por pelos de cavalo, que não eram ainda o material ideal, pois juntavam umidade e criavam mofo. A melhor solução apareceu em 1938, quando surgiram as primeiras escovas com cerdas de náilon, usadas até hoje.

Fonte: Revista Recreio, nº 177, 31 de julho, 2003, p.26, Editora Abril.

Segundo o texto, as escovas de pelo de cavalo foram substituídas pelas de náilon porque:

- A havia pouca matéria prima.
- B os pelos de cavalo era anti-higiênicos .
- C os pelos de cavalo causavam dor na gengiva.
- D os pelos de cavalo juntavam umidade e criavam mofo.

7. Retomando o texto da questão anterior, a ideia central do texto é:

PROCESSO SELETIVO 001/2023 - OGMO/NATAL (CONFERENTE)

- A Utilidade dos animais.
 - B Higiene dental.
 - C Pelos de animais.
 - D Invenção da escova de dente.
-

8. De acordo com a norma-padrão da língua portuguesa, o emprego da forma verbal há é adequado em:

- A A melhor forma de salvar o futuro do planeta é persuadir a população de que cabe há cada pessoa o dever de economizar água.
 - B A vida das pessoas há muito tempo depende da energia elétrica para a manutenção de aparelhos cada vez mais sofisticados.
 - C O mundo está próximo de uma derrocada devido há escassez de chuvas necessárias para solucionar o problema da seca que atinge a população.
 - D Os estudiosos pesquisam há melhor forma de substituir o uso de combustíveis poluentes por outros que causem menos danos aos indivíduos.
-

9. Assinale a alternativa correta quanto à concordância nominal.

- A A secretária costuma chegar entre meio-dia e meio e uma hora.
 - B Os gráficos seguem anexo ao relatório.
 - C A garota ficou meia chateada por ter perdido a pulseira.
 - D Prefiro as bolsas francesa e italiana.
-

10. A frase abaixo com um ERRO de concordância (nominal ou verbal) é:

- A No anúncio da ótica, o óculos estava quebrado;
 - B As crianças, por si mesmas, decidiram rabiscar o cartaz;
 - C O anunciante era um dos que deveriam falar naquele congresso;
 - D Nosso melhor guia devem ser a honra e o dever;
-

11.

“O café é tão grave, tão exclusivista, tão definitivo que não admite acompanhamento sólido. Mas eu o driblo, saboreando, junto com ele, o cheiro das torradas na manteiga que alguém pediu na mesa próxima.”

(Mário Quintana. In Veras, Dalila Tele. Café, verso e história. In <http://kplus.cosmo.com.br/materia.asp?co=97&rv=Colunistas>)

No texto, o autor mostra seu gosto pelo café, atribuindo-lhe características, expressas pelas palavras GRAVE, EXCLUSIVISTA e DEFINITIVO. Essas três palavras pertencem à classe gramatical dos:

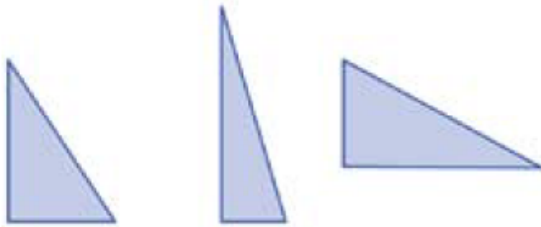
- A substantivos.
- B adjetivos.
- C verbos.
- D advérbios.

12. Assinale a opção que apresenta, correta e respectivamente, a classe gramatical a que pertencem as palavras destacadas no trecho abaixo.

“Aquele repórter **SENSACIONALISTA** que repete à exaustão a cena de **LINCHAMENTO**, o apresentador que tripudia sobre o drama do desvalido, a loura que vê na criança um consumidor **A** mais, o **JOVEM** que tem num ‘reality show’ desumano a alternativa para sua falta de horizonte, a menina **PRECOCEMENTE** erotizada, no fundo, somos todos nós. ”

- A adjetivo – substantivo – preposição – substantivo – advérbio
- B substantivo – substantivo – artigo – substantivo – adjetivo
- C advérbio – adjetivo – artigo – adjetivo – adjetivo
- D advérbio – verbo – artigo – adjetivo – advérbio

13. Observe os triângulos apresentados na sequência:



Indique uma característica presente em todas as figuras apresentadas.

- A Os triângulos possuem um ângulo maior que 90 graus.
- B Os triângulos possuem um ângulo reto.
- C Os ângulos são menores que 90 graus.
- D Não apresentam características comuns.

14. Um terreno retangular tem o comprimento medindo 20 metros e largura medindo 12 metros. Qual será a área deste terreno?

PROCESSO SELETIVO 001/2023 - OGMO/NATAL (CONFERENTE)

- A 60 m².
 - B 100 m².
 - C 120 m².
 - D 240 m².
-

15. Em uma escola, 60% dos alunos são meninas. O total de alunos é 1200. O número de alunos que são meninos é:

- A 120
 - B 240
 - C 360
 - D 480
-

16. Em 300 mL de água, foram misturados 100 mL de polpa de suco. Com relação ao volume total obtido após a mistura, o volume de polpa de suco corresponde a que porcentagem?

- A 20%.
 - B 25%.
 - C 30%.
 - D 33,3%.
-

17. João tem $\frac{3}{8}$ de R\$ 12,00, e Pedro tem $\frac{2}{3}$ dessa quantia. Os dois, juntos, têm R\$:

- A 12,00
 - B 12,50
 - C 13,00
 - D 13,50
-

18. Marcos é vendedor em uma loja de bonés. No final do mês, ao verificar as vendas da loja, percebeu que, de um total de 25 bonés, havia vendido 12. Qual a fração que representa o número de bonés que ficaram no estoque?

PROCESSO SELETIVO 001/2023 - OGMO/NATAL (CONFERENTE)

- A 12/25
 - B 9/25
 - C 13/25
 - D 1/25
-

19. Um feirante levou dois centos de laranjas para vender na feira, dessas, vendeu um cento, quatro dezenas e oito unidades. O número de laranjas que sobrou foi:

- A 48
 - B 52
 - C 148
 - D 152
-

20. Colocando os números decimais 2,05; 2,12; 2,1; 2,25 em ordem crescente, tem-se:

- A 2,05; 2,12; 2,1; 2,25
 - B 2,05; 2,1; 2,12; 2,25
 - C 2,1; 2,12; 2,05; 2,25
 - D 2,1; 2,12; 2,25; 2,05
-

21. O número decimal que é decomposto em $5 + 0,06 + 0,002$ é:

- A 5,62.
 - B 5,602.
 - C 5,206.
 - D 5,062.
-

22. O valor pago por uma corrida de táxi em uma cidade é dado pela equação $P=5+1,5K$, onde R\$ 5,00 é uma quantia fixa correspondente a chamada bandeirada, e R\$ 1,50 por quilômetro percorrido K. Se uma pessoa ao final da corrida pagou R\$ 50,00, quantos quilômetros percorreu o táxi?

PROCESSO SELETIVO 001/2023 - OGMO/NATAL (CONFERENTE)

- A 20km
 - B 30km
 - C 35km
 - D 40km
-

23. Se 30 tratores levaram 6 dias para realizar uma tarefa, quantos tratores fariam a mesma tarefa em 4 dias?

- A 20 tratores
 - B 35 tratores
 - C 45 tratores
 - D 25 tratores
-

24. O MDC entre trinta e seis e duzentos e oitenta e oito é:

- A 9.
 - B 18.
 - C 36.
 - D 72.
-

Leia o texto a seguir para responder às questões 25 e 26:

TEXT

Dan, Sarah, Ted, and Rebecca have been playing a friendly game of poker for almost an hour. So far, Ted has the biggest pile of winnings, with a total of \$5.45. Sarah has won a small sum, and Rebecca has lost more than Dan.

25. At this stage of the game, who has lost the most money?

- A Ted
 - B Sarah
 - C Dan
 - D Rebecca
-

26. If the game started at 7:00, what time might it be at this stage of the game?

- A 7:30
 - B 7:50
 - C 8:00
 - D 8:45
-

27. Leia com atenção a frase que se encontra no quadro e marque a alternativa que completa corretamente.

After we finished dinner, we _____ to the nearby park and _____ a bottle of champagne to celebrate.

- A Opened / Asked
 - B Worked / Helped
 - C Walked / Opened
 - D Walked / Cooked
-

28. Leia o exemplo da frase a seguir e marque a opção que completa com um comparativo de inferioridade.


That movie was _____ than I expected.

- A just as interesting
 - B more interesting
 - C eually interesting
 - D less interesting
-

29. Read the following sentences and mark the only one that correctly represents the “**simple future**” of the verb “**to be**”.

- A Denis and Camila were at the park yesterday.
 - B Clara and Jhon will be happy with the news.
 - C You are wearing a nice dress.
 - D Camila is a talented musician.
-

30. Sobre os usos adequados dos pronomes demonstrativos em inglês, veja a imagem e marque a alternativa correta.



- A Those are apples
 - B That is an apple
 - C This is an apple
 - D These are apples.
-

31. Complete o texto com os artigos A / AN e marque a sequência correta em umas das alternativas.

Crocodile is _____ large animal. It has sharp teeth. It can swim and walk on land. It can see at night and in the water. _____ crocodile sleeps with _____ eye open. _____ baby crocodile is called hatchling.

- A a / a / an / a
 - B a / a / a / an
 - C an / an / a / a
 - D an / a / a / na
-

32. Assinale a alternativa em que a palavra **but** expressa o sentido como o de "She is tired but happy":

- A I had no choice but to accept the challenge.
 - B It's an old car, but it's very reliable.
 - C What can we do but sit and wait?
 - D The child did nothing but weep.
-

33. Do the passive voice of the sentence: He has made everything beautiful in its time.

- A He had made everything beautiful in its time.
 - B He was made everything beautiful in its time.
 - C In its time, everything beautiful was made by him.
 - D In its time, everything beautiful has been made by him.
-

PROCESSO SELETIVO 001/2023 - OGMO/NATAL (CONFERENTE)

34. Complete sentences below using much, many, few and little

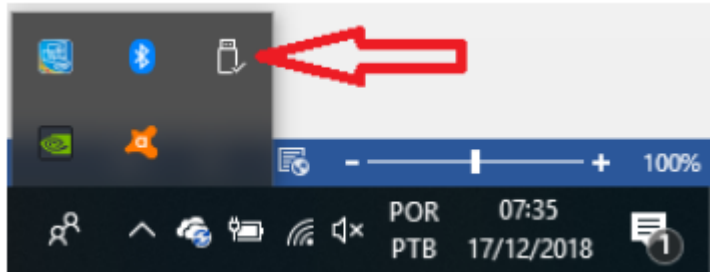
1- My mother did not have _____ money.

2- She only has _____ days left before retirement.

3- We still have _____ eggs.

- A much - few - many
- B little - much - many
- C many - little - few
- D few - many - little

35. Na barra de ferramentas do Windows 10, quando o ícone indicado pela seta em vermelho na imagem abaixo está visível, significa que:



- A Há uma nova notificação do Windows.
- B O computador pode estar com algum vírus.
- C Provavelmente existe um dispositivo USB conectado a máquina.
- D Há alguma atualização pendente.

36. No que se refere a *hardware* e *software* e aplicativos para Windows 10, assinale a alternativa que contém apenas **hardware**.

- A *Mouse e pendrive.*
- B *Teclado e e-mail.*
- C *Antivírus e sistema operacional Windows 10.*
- D *E-mail e mouse.*

37. Quando uma pessoa utiliza um computador com Windows 10 e Microsoft Word instalados, a ação de abrir o menu Iniciar e clicar com o botão direito do mouse sobre o ícone do Microsoft Word permite visualizar

PROCESSO SELETIVO 001/2023 - OGMO/NATAL (CONFERENTE)

- A a quantidade de espaço em disco ocupada pelo Microsoft Word.
 - B os tipos de arquivos que podem ser abertos com o Microsoft Word.
 - C o dia e o horário em que o Microsoft Word foi aberto pela última vez.
 - D os arquivos que foram abertos recentemente com o Microsoft Word.
-

38. Em relação aos Editores de Texto do Pacote Microsoft Office, analise as afirmativas abaixo e dê valores Verdadeiro (V) ou Falso (F).

I- Um dos editores de texto compatível com o Sistema Operacional Windows é o Word.

II- No editor de texto do Pacote Microsoft Office não é possível incluir uma tabela.

III- É possível colocar as palavras em Negrito, Itálico e/ou Sublinhado.

Assinale a alternativa que apresenta a sequência correta de cima para baixo.

- A V, F, F
 - B V, F, V
 - C F, V, V
 - D V, V, F
-

39. “Copiar a formatação de um local e aplicá-la a outro”.

Na interface do MS Word, essa é a descrição resumida do recurso/função:

- A Pincel de Formatação;
 - B Alterar Estilos;
 - C Painel de Seleção;
 - D Temas.
-

40. No Microsoft Excel, qual é o nome da linha horizontal apresentada abaixo que durante a utilização da planilha, ela mesma apresenta os dados que na célula foi inserido?



- A Barra de Fórmulas.
 - B Barra de Tarefas.
 - C Barra de Ferramentas.
 - D Barra de Dados.
-

PROCESSO SELETIVO 001/2023 - OGMO/NATAL (CONFERENTE)

41. No programa Microsoft Office Excel 2010, a fórmula que apresenta a soma de valores somente das células A2 e A8 é:

- A =SOMA(A2*A8)
 - B =SOMA(A2:A8)
 - C =SOMA(A2;A8)
 - D =SOMA(A2/A8)
-

42. Considerando o uso do aplicativo Microsoft Outlook, em sua configuração padrão, um usuário deseja enviar uma mensagem de correio eletrônico para 30 destinatários, mas quer evitar que qualquer um desses destinatários possa clicar em Responder para todos e, com isso, enviar respostas dessa mensagem original para qualquer um dos 30 destinatários originais. Para isso, esse usuário inicial precisa colocar todos os 30 destinatários:

- A no campo Cc, apenas.
 - B no campo Cco, apenas.
 - C no campo Para, apenas, e escrever no campo Assunto a palavra Oculto.
 - D nos campos Cc e Cco, ao mesmo tempo.
-

43. Considere os seguintes softwares:

I- Mozilla Thunderbird

II- Opera

III- Microsoft Edge

IV- Mozilla Firefox

V- Microsoft Outlook

Assinale a alternativa que indica corretamente quais destes softwares são navegadores Web.

- A apenas I
 - B apenas II e III
 - C apenas II, III e IV
 - D apenas III e IV
-

44. Quando um navegador de Internet apresenta em sua barra de status um ícone de cadeado fechado, significa que

- A o navegador está protegido por um programa de antivírus.
 - B a comunicação está sendo monitorada por um firewall.
 - C o site exige senha para acesso às suas páginas.
 - D a comunicação entre o navegador e o site está sendo feita de forma criptografada.
-

PROCESSO SELETIVO 001/2023 - OGMO/NATAL (CONFERENTE)

45. A República Federativa do Brasil é o maior país da América do Sul e da região da América Latina, sendo o quinto maior do mundo em área territorial (equivalente a 47,3% do território sul-americano), com 8 510 417,771 km² e o sétimo em população, com 203 milhões de habitantes, em agosto de 2022. Sua atual Constituição, promulgada em 1988, concebe o Brasil como uma república federativa presidencialista, formada pela união dos 26 estados, do Distrito Federal e dos 5 571 municípios.

Disponível em: <https://pt.wikipedia.org/wiki/Brasil>. Acesso em: 10 nov. 2023.

No que diz respeito ao presidencialismo, qual das alternativas apresenta os Presidentes do Brasil em ordem de sucessão?

- A Dilma Rousseff, Lula, Jair Bolsonaro, Lula
- B Lula, Michel Temer, Jair Bolsonaro, Lula
- C Lula, Dilma Rousseff, Jair Bolsonaro, Lula
- D Dilma Rousseff, Michel Temer, Jair Bolsonaro, Lula

46. Desde que surgiu a espécie humana, tem-se uma série de inovações com a finalidade de facilitar os processos relacionados à sobrevivência e adaptação da nossa espécie. Algumas das inovações que podemos citar são o machado e a lança, feitos para se defender dos animais e facilitar a vida.

A partir do exposto acima, é perceptível que a sociedade humana é marcada por processos de desenvolvimento e aprimoramento tecnológico ao longo da história. Sendo assim, entre as alternativas a seguir, assinale a que apresenta a invenção tecnológica mais recente:

- A Máquina à vapor.
- B Internet.
- C Relógio.
- D Telefone.

47. O Planeta Terra está em eminente perigo, pois, segundo relatório do Instituto de Recursos Mundiais, divulgado no início de agosto de 2023, um quarto da população mundial está prestes a esgotar sua água disponível de forma potável. Sabendo que a água é um item de necessidade primordial para a sobrevivência de qualquer ser vivo, abaixo seguem alguns motivos da escassez de água no planeta terra, **EXCETO**:

- A Mudanças climáticas.
- B Chuvas excessivas.
- C Ausência de infraestruturas básicas.
- D Poluição das reservas hídricas.

48. “As festas juninas são comemorações que acontecem no Brasil. Nela se comemoram três santos populares: Santo Antônio, São Pedro e São João. A origem da festa junina é pagã, ou seja, é contrária à doutrina cristã, porque as festas que deram origem às festas juninas homenageavam os deuses da natureza e da fertilidade e pediam fartura nas safras, pois era nessa altura que começava o período da colheita de cereais. Mas, como a igreja não conseguia acabar com a popularidade dessa festa - que surgiu há centenas de anos -, acabou aderindo a ela e atribuiu-lhe um caráter religioso.

(Disponível em: <https://www.todamateria.com.br/cultura-do-nordeste/> . Acesso em 16/11/2023)

Considerando o texto acima e os variados aspectos dessa festa representativa da cultura nordestina, avalie as afirmações a seguir:

PROCESSO SELETIVO 001/2023 - OGMO/NATAL (CONFERENTE)

I- As festas juninas, o forró e as quadrilhas são importantes manifestações culturais da população da região Nordeste.

II- A Bahia e Pernambuco são os estados da região Nordeste que não comemoram este evento. Ao invés disso apresentam apenas uma manifestação artística: o carnaval.

III- Na culinária junina, é comum comidas típicas como bolo de milho, canjica e pamonha.

IV- Os santos comemorados durante as festas de São João ocorrem no mês de julho e agosto.

As afirmações CORRETAS sobre a cultura Nordestina são:

- A II, III e IV apenas.
- B II e IV apenas.
- C I, II e III apenas.
- D I e III apenas.

49. A nota de R\$ 200 (duzentos reais), entrou em circulação no dia 2 de setembro. O Banco Central encomendou um total de 450 milhões de unidades da cédula até o fim de 2020. Uma das justificativas para a criação da cédula foi a necessidade de atender a alta da demanda em meio à pandemia, em especial por causa do auxílio emergencial.

(Disponível em: <https://g1.globo.com/retrospectiva/2020/retrospectiva-na-globo/noticia/2020/12/31/linha-do-tempo-2020-reveja-os-principais-acontecimentos-doano.ghtml> . Acesso em: 15 nov. 2023)

Esta nota de R\$ 200 reais tem a imagem de:

- A um cachorro caramelo.
- B um influente político do Brasil.
- C um lobo-guará.
- D uma paisagem natural.

50. Um dos meios modernos de comunicação é o aplicativo WhatsApp, fundado em 2009, nos Estados Unidos, por *Brian Acton* e *Jan Koum*, nascido como uma alternativa para as mensagens via SMS.

Desta forma, sobre o WhatsApp, responda verdadeiro (V) ou falso (F) às afirmativas abaixo, e assinale a alternativa que demonstre a sequência correta:

() Além de mensagem de texto, o aplicativo permite a gravação de mensagens de áudio, ligações e chamadas de vídeo.

() O aplicativo de comunicação, como meio de segurança, possui serviços de envio de fotos com visualização única.

() Como limitador de uso, alguns recursos como compartilhamento de localização não estão disponíveis, gratuitamente.

- A V – V – F.
- B V – F – F.
- C V – F – V.
- D V – V – V.