



PROCESSO SELETIVO – PROGRAMA TRAINEE 2019

FIERN – Sesi/RN – SENAI/RN – IEL/RN

PROVA DE CONHECIMENTOS: Básicos, Língua Portuguesa, Raciocínio Lógico e Informática

INSTRUÇÕES:

Esta prova contém cinquenta questões de múltipla escolha, sendo doze de Conhecimentos Básicos, doze de Língua Portuguesa, treze de Raciocínio Lógico e treze de Informática, nesta sequência. Cada questão tem cinco alternativas de resposta, onde apenas uma é a alternativa correta.

Esta prova tem duração de quatro horas.

No espaço “NOME DO CANDIDATO” coloque o seu nome em letra de forma.

No espaço “CPF” coloque o número do seu CPF.

Para cada questão, transcreva a sua opção de resposta na FOLHA DE RESPOSTA, utilizando caneta preta ou azul, preenchendo o espaço completamente ou marcando com um “x”.

NOME DO CANDIDATO: _____

NÚMERO DP CPF: ____-____-____.____-____.____-____-____



CONHECIMENTOS BÁSICOS

1. O conceito de Desenvolvimento Sustentável parte do princípio de que...

- a) para sustentar o consumo da população mundial, a destruição do meio ambiente deveria ser contida nos países pobres
- b) o atendimento às necessidades básicas das populações, no presente, não deve comprometer os padrões de vida das gerações futuras
- c) o padrão básico de vida populacional tem esgotado os recursos naturais e a alternativa seria rever o modo de viver nas grandes cidades
- d) o desenvolvimento industrial deve diminuir adaptando um novo modo de vida às gerações atuais e otimizando o uso de produtos artesanais
- e) a diminuição da retirada de recursos naturais renováveis e não renováveis buscam estabelecer novas formas de convívio com o meio agropecuário

2. Por ano, mais de 8 milhões de toneladas de _____ chegam aos oceanos. É como se, a cada minuto, a carga de um caminhão de lixo cheio de _____ fosse despejada no mar. Cerca de 90% de todo o lixo flutuando nos oceanos é _____ e, até 2050, 99% das aves marinhas terão ingerido o material.

As lacunas acima deverão ser preenchidas pelas palavras

- a) Madeira, Plástico e Óleo
- b) Plástico, Plástico e Óleo
- c) Plástico, Plástico e Plástico
- d) Plástico, Papel e Plástico
- e) Papel, Madeira e Plástico

3. Considerando-se o valor do seu PIB que é de US\$ 20,4 trilhões, qual é a maior economia do mundo?

- a) A economia chinesa
- b) A economia japonesa
- c) A economia russa
- d) A economia americana
- e) A economia coreana

4. Qual foi o produto mais exportado pelo Rio Grande do Norte em 2018?

- a) Sal
- b) Castanha de caju
- c) Algodão
- d) Tungstênio
- e) Melão



5. O que é o Acordo de Paris?

- a) É um tratado no âmbito da Convenção-Quadro das Nações Unidas sobre a produção de veículos elétricos, que rege medidas de redução de emissão dióxido de carbono a partir de 2050.
- b) É um tratado no âmbito da Convenção-Quadro das Nações Unidas sobre a Mudança do Clima, que rege medidas de redução da produção industrial a partir de 2020.
- c) É um tratado no âmbito da Convenção-Quadro das Nações Unidas sobre a Mudança do Clima, que rege medidas de incentivo ao comércio internacional a partir de 2020.
- d) É um tratado no âmbito da Convenção-Quadro das Nações da Organização dos Estados Americanos sobre a Mudança do Clima, que rege medidas de redução de emissão dióxido de carbono a partir de 2020.
- e) É um tratado no âmbito da Convenção-Quadro das Nações Unidas sobre a Mudança do Clima, que rege medidas de redução de emissão dióxido de carbono a partir de 2020.

6. _____ é o conjunto de meios e ações que combatem a exclusão aos benefícios da vida em sociedade, provocada pelas diferenças de classe social, educação, idade, deficiência, gênero, preconceito social ou preconceitos raciais.

A lacuna acima pode ser preenchida por:

- a) Inclusão social
- b) Exclusão social
- c) Direito exclusivo para crianças e adolescentes
- d) Educação transnacional
- e) Livre associação dos povos

7. Em seu livro *A República*, Platão utiliza a alegoria do navio para:

- a) Apresentar os governantes gregos
- b) Apresentar as redes sociais da Grécia
- c) Defender o militarismo no combate aos espartanos
- d) Defender a importância dos filósofos como governantes da cidade
- e) Defender a anexação da ilha de Creta

8. Dentre os fatores que contribuíram para a intensificação do processo de industrialização do Brasil está:

- a) A instalação de aeroportos nas regiões
- b) A intensa migração ocorrida em direção a região norte do país
- c) O crescimento acelerado dos grandes centros urbanos graças ao fenômeno do êxodo rural
- d) O desenvolvimento da agropecuária
- e) A transferência da capital federal do Rio de Janeiro para Brasília



9. A Revolução Francesa foi caracterizada pelas ideias:

- a) Do iluminismo e pelo romantismo
- b) Do iluminismo e pelo capitalismo
- c) Do capitalismo e pelo romantismo
- d) Do romantismo e pelo impressionismo
- e) Do impressionismo e pelo iluminismo

10. Imagine que você tome emprestado, a juros simples, a importância de R\$ 10.000,00, pelo prazo de 6 meses, à taxa de 8% ao mês. Qual será o valor que você deverá pagar como juro, decorrido este período de tempo? Qual o montante a ser pago?

- a) R\$ 4.800,00 e R\$ 14.800,00 respectivamente
- b) R\$ 800,00 e R\$ 10.800,00 respectivamente
- c) R\$ 480,00 e R\$ 14.800,00 respectivamente
- d) R\$ 780,00 e R\$ 10.800,00 respectivamente
- e) R\$ 4.800,00 e R\$ 10.000,00 respectivamente

11. Imagine que você tome emprestado, a juros compostos, a importância de R\$ 10.000,00, pelo prazo de 6 meses, à taxa de 8% ao mês. Qual, dos valores abaixo, mais se aproxima do montante a ser pago?

- a) R\$ 5.868,00
- b) R\$ 12.868,00
- c) R\$ 8.868,00
- d) R\$ 14.868,00
- e) R\$ 15.868,00

12. Ela é uma referência para o custo do crédito no Brasil. A sua definição é feita pelo Banco Central e ela é usada como um instrumento para controlar a inflação no país.

A afirmação acima refere-se a:

- a) Taxa de controle de exportações
- b) Taxa bancária sobre empréstimos internacionais
- c) Taxa COPOM
- d) Taxa selic
- e) Taxa de incorporação de exportações



LÍNGUA PORTUGUESA

13. Para completar corretamente as palavras abaixo, usam-se respectivamente:

- EXTIN__ÃO
- CONCE__ÃO
- SUSPEN__ÃO
- OB__ECADO
- CAN__ADO

- a) C – Ç - S – SC – S
- b) Ç – SS – S – C – S
- c) S – SS – S - SC – S
- d) S – C – S – SC – Ç
- e) S – C – Ç – S – Ç

14. Indique a letra na qual as palavras completam, corretamente, os espaços das frases abaixo.

- Quem possui deficiência auditiva não consegue _____ os sons com nitidez.
- Hoje são muitos os governos que passaram a combater o _____ de entorpecentes com rigor.
- O diretor do presídio _____ pesado castigo aos prisioneiros revoltosos.

- a) discriminar – tráfico – infligiu
- b) discriminar – tráfico – infringiu
- c) descriminar – tráfico – infringiu
- d) descriminar – tráfico – infligiu
- e) descriminar – tráfico – infringiu

15. Para completar corretamente as palavras abaixo, usam-se respectivamente:

- __ALÉ
- __ALÉ
- __ACOTA
- __ANFRADO
- __IFRÃO

- a) CH – CH – CH – CH – C
- b) X – CH – X – CH – C
- c) X – CH – CH – CH – C
- d) X – CH – CH – CH – S
- e) X – CH – CH – X – C



16. São sinônimos de pusilanimidade, encetamento e sutura, respectivamente:

- a) Credibilidade – Encerramento – Corte
- b) Amabilidade – Enxertamento – Secamento
- c) Experimentabilidade – Encarceramento – Sacramentação
- d) Debilidade – Início – Costura
- e) Operabilidade – Carregamento – Desenho

17. São sinônimos de intrigado, viés e croqui, respectivamente:

- a) Calado – Imposto – Crocante
- b) Doente – Vazio – Leitor
- c) Valente – Vazante – Trabalho
- d) Alugado – Volteio – Espaço
- e) Curioso – Atributo – Rabisco

18. São sinônimos de inóspito, arrojado e iberdade, respectivamente:

- a) Inovador – Inclemente – Produtividade
- b) Produtivo – Inovador - Inóspito
- c) Trabalho – Marcado – Suscetibilidade
- d) Atarefado – Localizado – Amabilidade
- e) Inclemente – Inovador – Produtividade

19. Nas alternativas abaixo, o tempo verbal destacado indica possibilidade em:

- a) As coisas não estão sempre iguais. Elas vão sempre mudando.
- b) Mesmo que se tomem as inadiáveis e urgentes medidas paliativas, sem tal plano, a empresa terá de conviver com enormes dificuldades financeiras.
- c) Se alguém por mim perguntar diga que eu só vou voltar quando eu me encontrar.
- d) Que importava se num dia futuro sua marca ia fazê-la erguer insolente uma cabeça de mulher?
- e) Dou-te apenas um conselho: vai embora hoje mesmo!

20. Em qual das alternativas todos os verbos estão em tempos do pretérito?

- a) Chamei-lhe a atenção porque teria observado de perto seu progresso
- b) Concordei que assim era, mas aleguei que a velhice estava agora no domínio da compensação
- c) Lembra-me de o ver erguer-se assustado e tonto
- d) Meu pai respondia a todos os presentes que seria o que Deus quisesse
- e) Se advertirmos constantemente esta moça, perderemos uma excelente profissional



21. Sobre a coerência textual, é incorreto afirmar:

- a) A coerência é uma conformidade entre fatos ou ideias, próprio daquilo que tem nexos, conexão, portanto, podemos associá-la ao processo de construção de sentidos do texto e à articulação das ideias.
- b) Por serem os sentidos elementos subjetivos, podemos dizer que a coerência não pode ser delimitada, pois o leitor é o responsável pela constituição dos significados do texto.
- c) A coerência é imaterial e não está na superfície textual. Compreender aquilo que está escrito dependerá dos níveis de interação entre o leitor, o autor e o texto. Por esse motivo, um mesmo texto pode apresentar múltiplas interpretações.
- d) A não contradição, a não tautologia e o princípio da relevância são elementos básicos que garantem a coerência textual.
- e) A coerência textual dispensa o uso adequado dos conectivos, elementos que apenas colaboram para a estruturação do texto sem apresentar relação direta com a semântica textual.

22. Assinale a opção que preenche, de forma coesa e coerente, as lacunas do texto abaixo:

O fenômeno da globalização econômica ocasionou uma série ampla e complexa de mudanças sociais no nível interno e externo da sociedade, afetando, em especial, o poder regulador do Estado. _____ a estonteante rapidez e abrangência _____ tais mudanças ocorrem, é preciso considerar que em qualquer sociedade, em todos os tempos, a mudança existiu como algo inerente ao sistema social.

- a) Não obstante – com que
- b) Portanto – de que
- c) De maneira que – a que
- d) Porquanto – ao que
- e) Quando – de que

23. Está inteiramente correta a pontuação do seguinte período:

- a) Admita, que você nos traiu, ao tomar uma atitude que contrariou inteiramente, nossa decisão da véspera.
- b) Se a maré subir, logo, os turistas ficarão ilhados naquelas pedras e, terão que esperar até amanhã, para voltarem.
- c) Garçom, nós queremos conversar; poderia pedir para baixar um pouco o volume do rádio, por favor?
- d) Durante a projeção do filme, que você me recomendou as pessoas iam saindo, mostrando assim, seu desagrado e desinteresse pelo final.
- e) Você deve ser condescendente, uma vez que, se não renegociar minha dívida, dificilmente, poderei pagá-la.



24. “A favela é um sintoma – grave – da doença brasileira.” Na frase acima, os travessões foram usados para:

- a) evitar a repetição de um termo já mencionado;
- b) explicar, com um sinônimo, o termo anterior;
- c) enfatizar a adjetivação atribuída ao substantivo anterior;
- d) interromper o pensamento, desviando-o para outro assunto;
- e) intercalar uma ideia estranha à que vinha sendo enunciada.

RACIOCÍNIO LÓGICO

25. Todos os soldados são natalenses. Assim sendo:

- a) o conjunto dos soldados contém o conjunto dos natalenses.
- b) o conjunto dos natalenses contém o conjunto dos soldados.
- c) todos os natalenses são soldados.
- d) algum soldado não é natalense.
- e) nenhum soldado é natalense.

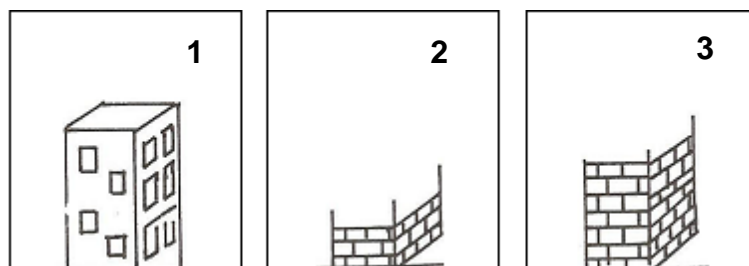
26. Assinale a palavra que não faz parte da sequência:

- a) Pedra
- b) Peixe
- c) Homem
- d) Cavalo
- e) Canguru

27. Qual o conjunto de letras que está fora do padrão dos demais?

- a) X A Q U Y B I C S
- b) B C D E K L I O P
- c) A H W M I T X Z U
- d) R O K L P A G E N
- e) Y A V K O R I P U

28. Assinale a sequência correta:



- a) 1 – 2 – 3
- b) 3 – 1 – 2
- c) 3 – 2 – 1
- d) 2 – 3 – 1
- e) 2 – 1 – 3

29. Assinale a opção que completa a seguinte sequência:

2 – 3 – 4 – 11 – 12 – 13 – 17 – 18 – (?)

- a) 24
- b) 20
- c) 23



- d) 19
e) 2

30. Dione, Isabela e Tainá levaram cada qual seu filho ou filha: Alice, Plínio e Rafael, não necessariamente nesta ordem, para um passeio no shopping. Cada criança ficou entretida com uma atividade diferente: fliperama, parque e teatrinho. Com base nas informações dadas, descubra o nome de cada mulher e de cada criança e a atividade que fizeram durante o passeio no shopping.

(a) Plínio é filho de Tainá.

(b) Rafael ficou feliz em brincar no parque de diversões do shopping.

(c) Dione levou a filha ao teatrinho armado na praça de alimentação do shopping.

a)

MÃE	CRIANÇA	ATIVIDADE
Dione	Plínio	fliperama
Isabela	Rafael	parquinho
Tainá	Alice	teatrinho

b)

MÃE	CRIANÇA	ATIVIDADE
Tainá	Alice	fliperama
Isabela	Rafael	parquinho
Dione	Plínio	teatrinho

c)

MÃE	CRIANÇA	ATIVIDADE
Tainá	Plínio	parquinho
Isabela	Rafael	fliperama
Dione	Alice	teatrinho

d)

MÃE	CRIANÇA	ATIVIDADE
Alice	Plínio	fliperama
Isabela	Rafael	parquinho
Dione	Tainá	teatrinho

e)

MÃE	CRIANÇA	ATIVIDADE
Tainá	Plínio	fliperama
Isabela	Rafael	parquinho
Dione	Alice	teatrinho



31. Acompanhando a conquista espacial, estão Lucas, Roberto e Sílvia que pesquisam tudo o que podem sobre o assunto. Entretanto, atualmente, cada rapaz está concentrado no estudo de um planeta diferente: Vênus, Marte e Saturno, não necessariamente nesta ordem. Além disso, cada um possui uma miniatura de uma nave espacial diferente: Columbia, Discovery e Voyager, não necessariamente nesta ordem. Com base nas dicas a seguir, determine o nome de cada rapaz, o planeta que está pesquisando e a miniatura que possui.

(a) Sílvia pesquisa Saturno.

(b) O rapaz que pesquisa o planeta Vênus tem uma miniatura da nave Voyager.

(c) Lucas tem uma miniatura da nave Columbia.

a)

RAPAZ	PLANETA	MINIATURA
Sílvia	Saturno	Discovery
Lucas	Marte	Columbia
Roberto	Vênus	Voyager

b)

RAPAZ	PLANETA	MINIATURA
Lucas	Saturno	Discovery
Sílvia	Marte	Columbia
Roberto	Vênus	Voyager

c)

RAPAZ	PLANETA	MINIATURA
Sílvia	Vênus	Discovery
Lucas	Marte	Columbia
Roberto	Saturno	Voyager

d)

RAPAZ	PLANETA	MINIATURA
Sílvia	Saturno	Columbia
Lucas	Marte	Saturno
Roberto	Vênus	Voyager

e)

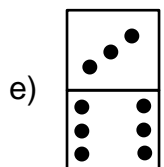
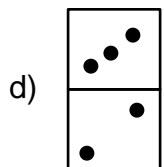
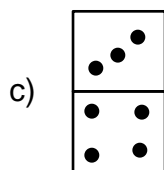
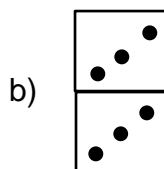
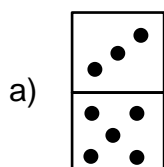
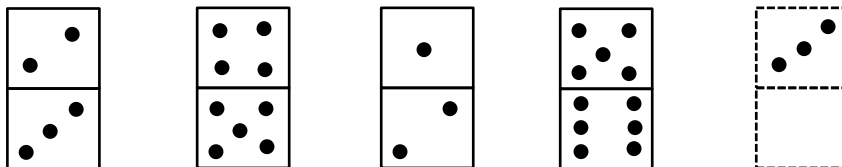
RAPAZ	PLANETA	MINIATURA
Lucas	Saturno	Discovery
Roberto	Marte	Columbia
Sílvia	Vênus	Voyager

32. De quantas maneiras distintas eu posso acomodar cinco policiais em uma viatura com capacidade para cinco pessoas?

- a) 60
- b) 120
- c) 75
- d) 25
- e) 125



33. Assinale a opção que completa a sequência:



34. A sequência de palavras abaixo segue uma determinada regra:

CAMISETA – ACETONA – FACA – ABACAXI – MÁGICO

Qual é a próxima palavra da sequência?

- a) cavalo
- b) azeite
- c) maionese
- d) basquete
- e) publicação



35. Marque a alternativa correta:

- a) Qualquer frase é uma proposição
- b) Perguntas são proposições indiretas
- c) Ordens são proposições
- d) Onomatopeias só são proposições se estiverem acompanhadas de algum insulto
- e) Só é proposição aquilo que podemos julgar como sendo verdadeiro ou falso

36. A negação da proposição “Maria não foi ao cinema e Paulo foi ao teatro” é:

- a) “Maria foi ao cinema ou Paulo não foi ao teatro.”
- b) “Maria foi ao cinema e Paulo não foi ao teatro.”
- c) “Maria foi ao cinema ou Paulo foi ao teatro.”
- d) “Maria foi ao cinema e Paulo foi ao teatro.”
- e) “Maria não foi ao cinema e Paulo não foi ao teatro.”

37. "todos os homens são mortais; os gregos são homens; logo, os gregos são mortais".

- a) Construtivismo
- b) Absenteísmo
- c) Silogismo
- d) Anacronismo
- e) Filosofismo


INFORMÁTICA

ATENÇÃO!

As questões de números 38, 39 e 40 referem-se ao editor de textos Word 2013, do MS – Office.

38.  → **Encontra-se na guia:**

- a) Design
- b) Revisão
- c) Inserir
- d) Correspondências
- e) Referências

39.  → **Encontra-se na guia:**

- a) Design
- b) Revisão
- c) Inserir
- d) Correspondências
- e) Referências

40.  → **Encontra-se na guia:**

- a) Design
- b) Revisão
- c) Inserir
- d) Correspondências
- e) Referências



ATENÇÃO!

As questões de números 41, 42, 43, 44 e 45 referem-se ao editor de planilha Excel 2013, do MS – Office.

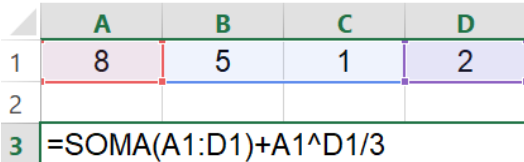

41.      **Encontra-se na guia:**

- a) Layout da página
- b) Dados
- c) Fórmulas
- d) Exibição
- e) Revisão

42. Considerando o ambiente do MS-Excel 2013, correlacione as colunas e, em seguida, assinale a alternativa que apresenta a sequência correta:

Clique em:	Para:
1. Inserir	() Congelar painéis
2. Página inicial	() Criar tabelas, gráficos e hiperlinks
3. Fórmulas	() localizar dados nas células
4. Exibição	() Encontrar funções

- a) 1 – 2 – 3 – 4
- b) 4 – 1 – 2 – 3
- c) 2 – 3 – 4 – 1
- d) 3 – 4 – 1 – 2
- e) 1 – 3 – 2 – 4

43.  

No MS-Excel 2013 foi digitada na célula A3 a fórmula conforme mostrada na planilha. Qual será o resultado da fórmula ao pressionar ENTER?

- a) 37,333333
- b) 19
- c) 16,897614



- d) 27,121212
e) 9

44. Em uma planilha do MS-Excel 2013, as seguintes células foram preenchidas:

	A	B
1	200	
2	320	
3	480	
4	250	
5	800	

Se a fórmula =MÉDIA(A1:A5)-MÍNIMO(A1;A5) for digitada em B1, qual será o resultado obtido?

- a) 520
b) 450
c) 700
d) 610
e) 210

45. Em uma planilha MS-Excel 2013 foram digitados os nomes dos seguintes vendedores e o valor do faturamento por eles realizados:

	A	B	C	D	E	F
1	TABELA DE FATURAMENTO MENSAL POR VENDEDOR (R\$) - 1º TRIMESTRE DE 2019					
2	NOME DO VENDEDOR	MESES			TOTAL	MÁXIMO
3		JAN	FEV	MAR		
4	Marina Costa da Rocha	25.000,00	12.000,00	17.000,00	54.000,00	25.000,00
5	Carlos André Pimenta	32.000,00	16.000,00	27.000,00	75.000,00	32.000,00
6	José de Anchieta Pereira	45.000,00	22.000,00	34.000,00	101.000,00	45.000,00
7	Suely Almeida Castro	12.000,00	43.000,00	18.000,00	73.000,00	43.000,00
8	Antônio Coelho Andrade	14.000,00	39.000,00	32.000,00	85.000,00	39.000,00

Nas células E4, E5, E6, E7 e E8 encontra-se uma fórmula que está somando os valores gerados mensalmente por cada vendedor. Já nas células F4, F5, F6, F7 e F8, estão os valores máximos mensais gerados por cada um dos vendedores. Considere somente as células E4 e F4. As fórmulas corretamente digitadas nessas células são, respectivamente:

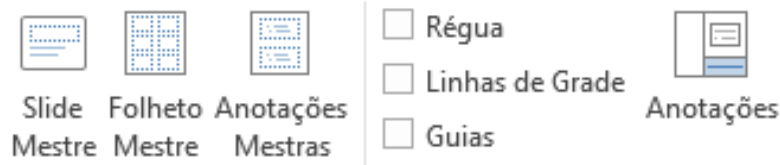
- a) =SOMA(B4:D8) e =MÁXIMO(B4:D8)*3
b) =SOMA(B3:D4) e =MÁXIMO(B4:D4)/5
c) =SOMA(B7:D4) e =MÁXIMO(B4:D4)
d) =SOMA(B4:D4) e =MÁXIMO(B4:D4)
e) =SOMA(B8:D8) e =MÁXIMO(B4:D4)



ATENÇÃO!

A questão de número 46 refere-se ao editor de apresentação Powerpoint 2013, do MS – Office.

46. A imagem abaixo mostra parte de comandos do MS-Powerpoint 2013.



Estes comandos são acessíveis a partir da guia:

- a) Transições
- b) Animações
- c) Exibição
- d) Design
- e) Revisão

ATENÇÃO!

As questões de números 47, 48, 49 e 50 referem-se a Rede Mundial de Computadores.

47. Qual alternativa abaixo contém apenas ferramentas de navegação e de correio eletrônico utilizadas em redes de computadores?

- a) Chat, ICQ, MSN, Twitter
- b) Internet Explorer, Mozilla Firefox, Outlook, Outlook Express
- c) WAIS, Web, WWW, Finger
- d) Goher, Usenet News, Wais, Netnews
- e) Fórum, HomePage, Password, Usenet



48. Considere o caso hipotético a seguir:

“Foi descoberta uma nova vulnerabilidade no navegador Chrome e a Google disponibilizou um patch de emergência para solucionar o problema. Enquanto usava o computador no trabalho usando o Chrome, o colaborador pesquisou na internet informações sobre a vulnerabilidade para verificar se estava protegido. Foi direcionado para o site gumblar.cn que oferecia informações sobre a vulnerabilidade e a opção de obter o patch, cujo download poderia ser feito automaticamente em seu computador. O colaborador leu as informações, mas clicou na opção “não” para rejeitar o download. Porém, tempos depois, descobriu que naquele momento em que lia as informações do site e negava o download, havia sido instalado secretamente um programa de registro do uso do teclado em seu computador que passou a gravar tudo o que ele digitava, desde senhas de acesso a e-mails, acesso a contas bancárias, etc. Seu e-mail passou a ser utilizado para operações criminosas e os valores de sua conta bancária foram roubados.

O problema teria sido evitado se o profissional tivesse:

- a) Obtido informações e realizado o download do patch diretamente no site da Google, fabricante do Chrome
- b) Clicado em “Sim”, aceito o download e passado o antivírus no suposto patch baixado antes de instalá-lo
- c) Utilizado outro navegador, que não fosse o Chrome, para acessar o site e obter informações
- d) Um antivírus instalado no computador, pois todos os antivírus detectam automaticamente os sites maliciosos
- e) Percebido que o nome do site não era padrão, ou seja, não iniciava por <http://www>, pois sites maliciosos não adotam nomes padronizados

49. Durante a utilização de softwares denominados navegadores ou browsers, como no caso do Mozilla Firefox, Internet Explorer e Google Chrome, existe uma área onde os endereços dos sites visitados pelo usuário são automaticamente listados, denominada HISTÓRICO. Assinale a alternativa correta para o atalho de teclado acessar o Histórico em qualquer um dos navegadores listados anteriormente:

- a) CTRL F
- b) CTRL O
- c) CTRL S
- d) CTRL H
- e) CTRL M



50. Em relação a Internet, um motor de pesquisa também é conhecido como:

- a) Editor de texto
- b) Leitor PDF
- c) Editor de planilha
- d) Editor de apresentação
- e) Ferramenta de busca